

LÍNGUA PORTUGUESA

Número de Questões: 08 (oito)

Valor de Cada Questão: 2,5 pontos

O Trabalho Infantil no Brasil

01 Como todos sabemos, o Brasil é conhecido internacionalmente como um país que se utiliza de mão-de-obra infantil, tanto no comércio interno como em atividades relacionadas aos setores exportadores.

05 Existem diversos motivos para as crianças e adolescentes se incorporarem ao mercado de trabalho. A pobreza é o principal. Outra causa importante é a demanda do mercado de trabalho por mão-de-obra barata. Além do fato das crianças trabalharem por menos dinheiro, elas são mais facilmente disciplinadas e não estão organizadas em sindicato.

10 Evolutivamente, o assunto ganhou a devida importância. Isso se deve pelo fato de governos e Organizações Internacionais terem desenvolvido a consciência de

15 que o trabalho infantil deve ser eliminado em todas as suas manifestações, por não ser condizente com a ética de uma sociedade democrática que objetiva a equidade e igualdade de oportunidades para todos os seus cidadãos.

20 Em razão disso, a erradicação do trabalho infantil tem sido alvo de várias políticas sociais do governo brasileiro, que tem promovido ações integradas para garantir à criança e ao adolescente o direito à vida e ao desenvolvimento total. No Brasil está sendo implementado o

25 Programa Bolsa Criança Cidadã, que busca criar condições mínimas para o ingresso e/ou regresso das crianças e adolescentes trabalhadores à escola. Para tanto, essas famílias terão acesso a uma renda complementar, que assegure a permanência dos seus filhos nas atividades do ensino regular e da jornada complementar.

30 Isso demonstra que a violação dos direitos dos menores está, aos poucos, sendo combatida, mas o número de crianças trabalhando ainda é muito alto. O processo de erradicação do trabalho destes menores é lento e requer um esforço significativo do Governo, das Organizações Internacionais e da sociedade civil em geral.

(WATFE, Cristina - DireitoNet - adaptado, <http://www.direitonet.com.br>)

01. Marque a alternativa que sintetiza corretamente o assunto do texto em estudo:

- A) O trabalho infantil é indispensável ao desenvolvimento socioeconômico do Brasil devido à mão-de-obra barata.
- B) A política socioeducacional do governo brasileiro é decisiva para erradicação do trabalho infantil.

- C) O governo brasileiro tem desenvolvido políticas integradas que asseguram aos menores o direito à vida e à cidadania.
- D) Somente a sociedade civil é capaz de erradicar o trabalho infantil no Brasil.
- E) Somente o programa Bolsa Criança Cidadã e a renda complementar concedida às famílias carentes poderão solucionar este grave problema social.

02. A palavra "equidade" (l.17) tem o sentido de:

- A) rigidez
- B) tolerância
- C) afinidade
- D) legalidade
- E) justiça

03. A expressão "... a demanda do mercado de trabalho..." (l. 07 e 08) significa:

- A) a necessidade dos empresários de aquisição de mão-de-obra.
- B) a tendência dos trabalhadores em oferecer seus serviços.
- C) a permuta dos trabalhadores entre as empresas.
- D) a total absorção de mão-de-obra pelas empresas.
- E) a concorrência entre os trabalhadores na aquisição de mão-de-obra por parte das empresas.

04. O terceiro parágrafo do texto em estudo aborda:

- A) a falta de ética por parte dos trabalhadores infantis em concorrer vantajosamente no mercado de trabalho.
- B) a necessidade de erradicação do trabalho infantil numa sociedade democrática.
- C) a insensibilidade do governo e das Organizações Internacionais no tratamento do problema social que é o trabalho infantil.
- D) o trabalho infantil como uma consequência natural de uma economia de mercado.
- E) a aceitação do trabalho infantil devido às condições de extrema necessidade dos trabalhadores.

05. Em "Isso demonstra..." (l. 31), a palavra em destaque refere-se:

- A) às idéias desenvolvidas no quarto parágrafo.
- B) às palavras "famílias" (l. 28) e filhos (l. 29).
- C) à "violação dos direitos dos menores..." (l. 31 e 32)
- D) ao desenvolvimento das idéias do quinto parágrafo.
- E) aos parágrafos anteriores.

06. No primeiro parágrafo do texto, há três ocorrências da palavra como, que chamaremos de **1**, **2** e **3**, respectivamente.

Observe as seguintes afirmações:

- I- **1**, **2** e **3** têm o mesmo valor semântico.
- II- **1** e **2** expressam conformidade.
- III- **3** faz parte de uma expressão aditiva.
- IV- **1** indica causa.

É correto o que se afirma apenas em:

- A) I
- B) II e III
- C) III
- D) IV
- E) I e IV

07. Analise as seguintes passagens do texto:

- I- “... o Brasil é conhecido internacionalmente como um país...”
- II- “... governos e Organizações Internacionais terem desenvolvido a consciência...”
- III- “... o trabalho infantil deve ser eliminado...”
- IV- “... a violação dos direitos dos menores está ... sendo combatida...”

O sujeito é agente da ação verbal apenas em:

- A) I
- B) I, II e III
- C) II
- D) III e IV
- E) IV

08. “Existem diversos motivos para as crianças se incorporarem ao mercado de trabalho.”

A frase acima estaria, também, gramaticalmente correta se fosse iniciada por:

- A) Hão de haver diversos motivos...
- B) Devem haver diversos motivos...
- C) Deve existir diversos motivos...
- D) Deve haver diversos motivos...
- E) Devem existirem diversos motivos...

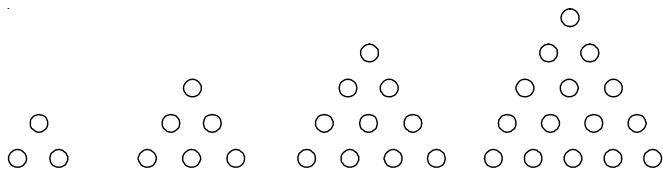
MATEMÁTICA

Número de Questões: 08 (oito)

Valor de Cada Questão: 2,5 pontos

09. Seu Francisco nasceu em 19xy e completará, em 2006, xy anos, onde x e y são algarismos do sistema decimal de numeração. O valor de $x + y$ é:
- A) 5
 - B) 6
 - C) 7
 - D) 8
 - E) 9

10. Os números da seqüência 3, 6, 10, 15, são chamados de números triangulares porque podem ser representados por triângulos como se mostra na figura abaixo.



Assinale a alternativa que contém o oitavo número triangular:

- A) 51
 - B) 45
 - C) 40
 - D) 36
 - E) 30
11. A quantidade de algarismos do produto $5^{12} \times 8^6$ é:
- A) 14
 - B) 15
 - C) 16
 - D) 17
 - E) 18
12. No domingo passado, a pousada "RELAXANDO" teve seus 12 apartamentos completamente lotados. Sabendo que a pousada possui apartamentos duplos (acomodam duas pessoas) e triplos (acomodam três pessoas) e que o total de hóspedes foi 29, assinale o item que contém a quantidade de apartamentos duplos.
- A) 3
 - B) 4
 - C) 5
 - D) 6
 - E) 7
13. A primeira fase do campeonato Cearense de Futebol Profissional da 1ª Divisão de 2006, chamada de fase classificatória, será disputada por 10 agremiações em sistema de "ida e volta", isto é, os clubes se enfrentarão duas vezes. O total de partidas que serão disputadas na fase classificatória do campeonato é:
- A) 40
 - B) 80
 - C) 90
 - D) 100
 - E) 200

14. A trecho abaixo foi retirado de matéria publicada na edição do Jornal O Povo do dia 18/01/2006:

Mais de 2 milhões de turistas este ano

O aumento do fluxo turístico reflete diretamente no segmento hoteleiro, que passa a contar com maior número de unidades ocupadas.

Claude Bornél
da Redação

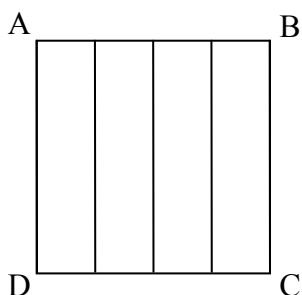
O secretário estadual de Turismo, Allan Aguiar, avalia que o Ceará está despontando como uma liderança nacional no setor de hotelaria. Um reflexo disso, argumenta, é o crescimento do fluxo turístico. Em 2003, a “terra do sol” recebeu 1,5 milhão de visitantes, número que subiu para 1,784 milhão no ano seguinte. Os dados de 2005 ainda não estão fechados, mas a sinalização é de 1,968 milhão de pessoas, um crescimento de 10,31%. Para este ano, o secretário projeta um crescimento de até 15%.

Analisando as informações acima, podemos garantir que:

- A) De 2002 para 2003 o crescimento no fluxo turístico foi de 54,32%.
- B) De 2003 para 2004 o crescimento foi aproximadamente 34%.
- C) O número de turistas projetado para 2006 é aproximadamente 2,27 milhões.
- D) Em 2007 mais de 3 milhões de turistas visitarão o Ceará.
- E) De 2003 para 2006 o crescimento é de aproximadamente 26%.

15. O quadrado ABCD da figura ao lado foi dividido em quatro retângulos congruentes.

Se a medida do perímetro de um dos retângulos é 25cm, então a área do quadrado ABCD mede:



- A) 25 cm²
 - B) 50 cm²
 - C) 75 cm²
 - D) 90 cm²
 - E) 100 cm²
16. Uma panela com capacidade para 12 litros tem a forma de um cilindro circular reto de raio 10cm. Considerando $\pi = 3,1$, assinale a alternativa que contém o valor mais aproximado da medida da altura da panela.
- A) 25 cm
 - B) 30 cm
 - C) 34 cm
 - D) 39 cm
 - E) 40 cm

HISTÓRIA

Número de Questões: 08 (oito)

Valor de Cada Questão: 2,5 pontos

17. A Renascença tem as suas raízes na redescoberta de parte do passado da Europa que fora obscurecido pela civilização cristã durante a Idade Média. Rafael glorificou os grandes filósofos da Grécia na pintura e os escritores humanistas imitaram o estilo do romano Cícero para escrever em latim elegante. O que de fato deu nome à Renascença foi o "renascimento da sabedoria clássica". (Roberts, J. M. **O Livro de ouro na História do Mundo - da pré-História à Idade Contemporânea**. Rio de Janeiro: Ediouro p.400.)

Sobre a Renascença, pode-se afirmar:

- A) A Renascença foi, na verdade, uma plena imitação da cultura clássica grega, não existindo nenhuma inovação nas áreas políticas ou artísticas da chamada modernidade.
- B) Rafael e Cícero, grandes figuras do Renascimento, foram representantes ligados a lutas religiosas no início da Idade Moderna, por isso são melhor enquadrados no movimento reformista.
- C) O movimento renascentista mudou o referencial de beleza no mundo, pois a criação cultural fez com que a produção desenvolvida neste período tornasse a Europa o centro do planeta - europeização.
- D) Um dos principais objetivos do movimento era o combate ao antropocentrismo, principal característica cristã ocidental.
- E) O processo iluminista foi fundamental para estimular o movimento renascentista, por causa de suas idéias inovadoras, principalmente na área científica.
18. “Todos os dias, o apito pungente da fábrica cortava o ar esfumaçado e pegajoso que envolvia o bairro operário e, obedientes ao chamado, seres sombrios, de músculos ainda cansados, deixavam seus casebres acanhados e escuros feito baratas assustadas.”
(GORKI, M, Mae, Companhia Editora Americana, pág. 9.)
- A) A Revolução Industrial foi um processo que englobou diferentes aspectos de transformação; um dos principais foi o tecnológico por causa do novo modo de produção desenvolvido.
- B) A Industrialização foi um produto idealizado pela realeza para tentar se consolidar no poder.
- C) Os ideais revolucionários do século XVIII nada influenciaram na propagação de movimentos emancipacionistas da América.
- D) A Revolução Francesa, ocorrida em 1789, foi unicamente um movimento popular, sem participação burguesa.
- E) Em suas fases, a Revolução Francesa sempre esteve fiel aos pensamentos monarquistas da época.

19. Analise os itens abaixo sobre fatos do século XX e marque a afirmativa correta:
- I- O chamado período entre-guerras foi um período de estabilidade econômica para a burguesia liberal.
- II- O Fascismo foi um sistema político marcado por plena democracia desenvolvida por seus seguidores.
- III- A quebra da bolsa de valores de Nova Iorque (1929) só afetou a economia americana por causa da pouca influência dos Estados Unidos nas outras economias.

Assinale a alternativa correta:

- A) todas são verdadeiras.
- B) todas são falsas.
- C) somente I e II são verdadeiras.
- D) somente a II e a III são verdadeiras.
- E) somente a II é falsa.
20. “Além do mais, a crise final da Idade Média (séculos XIV e XV) assistiu a verdadeira fome de metais preciosos, necessários à cunhagem de moedas. A necessidade de obter ouro e prata, revitalizando as transações mercantis enfraquecidas com a depressão econômica, igualmente funcionou como poderoso fator para a expansão atlântica dos séculos XV e XVI.”

(História das Sociedades - das sociedades modernas às atuais / Rubim Santos Leão de Aquino (et. al.) - Rio de Janeiro: Ao Livro Técnico. 1983 - pág. 13.)

Entende-se por Périplo Americano:

- A) O movimento patrocinado por Portugal nos séculos XIV e XV visando à colonização do continente americano.
- B) A tentativa dos espanhóis para dominar o continente americano após a assinatura do Tratado de Tordesilhas, em 1494.
- C) O movimento dos países europeus tentando dominar o continente americano após o descobrimento da América por Cristóvão Colombo, em 1492.
- D) O movimento patrocinado pelos portugueses com o objetivo de chegar às Índias viajando pelo Ocidente.
- E) O movimento patrocinado pela Espanha tentando chegar às Índias contornando o continente americano.
21. O Presidente dos Estados Unidos, George W. Bush, que esteve no Brasil no ano de 2005, numa breve visita, tentou consolidar a boa relação com o nosso país, fazendo com que exista a aceitação plena da concretização de uma aliança comercial que é o grande sonho a ser realizado pelo governo americano. Qual o nome dessa Aliança?
- A) ALCA
- B) NAFTA
- C) MCE
- D) COMECOM
- E) MERCOSUL

22. “Em abril de 1945, foi dado mais um passo para a democratização do país. No dia 11, o Supremo Tribunal Federal concedeu *habeas-corpus* a exilados políticos, permitindo seu regresso ao país. Uma semana depois, foi decretada a anistia política que beneficiou um grande número de comunistas, inclusive Prestes. Data também deste mês a legalização dos partidos que iriam disputar o pleito de dezembro.”

(Brasil - Uma perspectiva histórica Segundo Reinado e República - Domingues, Joelza Ester - São Paulo - Editora FTD - 1983 - pág. 259.)

Foram partidos políticos brasileiros importantes durante a República Populista:

- A) Aliança Nacional Renovadora e Movimento Democrático Brasileiro.
 - B) Partido Republicano Paulista e Partido Republicano Mineiro.
 - C) Partido Social Democrático e União Democrática Nacional.
 - D) Partido Conservador e Partido Liberal.
 - E) Partido Democrático Trabalhista e Liga Eleitoral Católica.
23. O Café foi a grande atividade econômica do Segundo Reinado (1840-1889), realizando mudanças na vida social e econômica do país; entre estas mudanças podemos mencionar:
- A) Fundação das primeiras faculdades brasileiras, sendo de Medicina, na Bahia e no Rio de Janeiro.
 - B) Transferência definitiva da Capital Brasileira de Salvador para o Rio de Janeiro.
 - C) Desenvolvimento cultural, principalmente na Região de Minas Gerais, cujo principal exemplo é o Barroco.
 - D) Crescimento das atividades bancárias e remodelamento das cidades.
 - E) Grande surto industrial com a criação da Usina de Volta Redonda.
24. Fortaleza tornou-se, no século XIX, o grande centro urbano cearense devido principalmente:
- A) à produção canavieira, destinada à exportação.
 - B) ter sido o centro coletor e exportador de algodão.
 - C) ao grande incentivo dado à atividade pecuária.
 - D) ao fato de ter sido a primeira capital cearense.
 - E) à construção de fortes para a defesa contra as invasões estrangeiras.

GEOGRAFIA

Número de Questões: 08 (oito)

Valor de Cada Questão: 2,5 pontos

25. Analise o texto.

"As formas de relevo terrestre produzidas pelas forças geológicas endógenas chamadas tectônicas vêm sendo modeladas e remodeladas desde o instante em que caíram as primeiras gotas de chuva, correram águas formando rios, sopraram ventos e as ondas do mar se agitaram, transformando montanhas em planaltos, recortando planaltos em suaves colinas, originando extensas planícies e inúmeros vales férteis. É uma história de transformação das paisagens naturais tão antiga quanto a própria história da Terra. A esse trabalho de modelagem e remodelagem do relevo dá-se o nome de erosão, incluindo-se os processos deposicionais."

(SUDO. In: SANT'ANNA NETO; ZAVATINI (Org.) 2000, p. 127.)

A partir das informações do texto, assinale a alternativa correta.

- A) Nos terrenos geologicamente antigos (Pré-Cambrianos) predominam forças endógenas, como os movimentos orogênicos e epirogênicos.
 - B) As forças endógenas são criadoras e as forças exógenas são modificadoras das formas de relevo.
 - C) O Japão é um país geologicamente instável, devido à predominância das forças exógenas, como a erosão, o transporte e a acumulação de sedimentos.
 - D) São exemplos de forças endógenas o intemperismo e os diversos agentes erosivos, incluindo-se os processos deposicionais.
 - E) A estabilidade tectônica do território brasileiro é explicada pela predominância das forças geológicas endógenas no país.
26. Considere a afirmativa: "Fortaleza, no Ceará e Rio Branco, no Acre possuem uma enorme distância longitudinal entre si".
- Considerando apenas a informação acima, pode-se afirmar corretamente que entre as duas cidades há uma grande variedade:
- A) horária
 - B) sazonal
 - C) climatológica
 - D) pedológica
 - E) econômica

Observe a ilustração abaixo, representativa da paisagem natural cearense, para responder às questões 27 e 28.

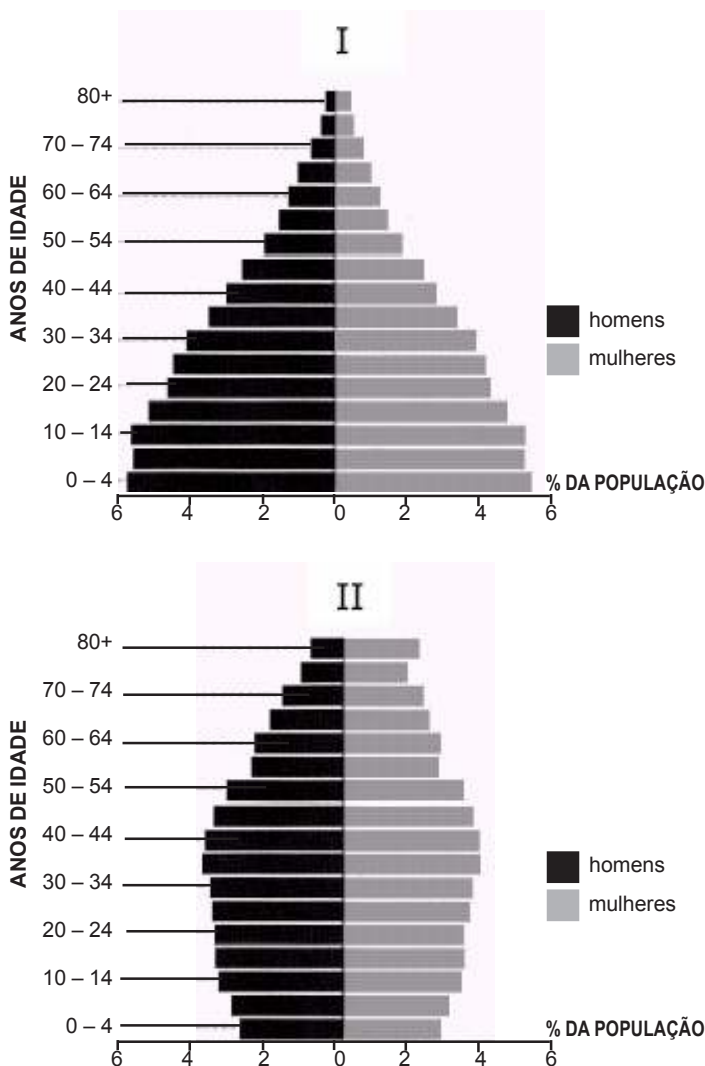


Da carnaúba tudo se aproveita: a cera, a palha e a madeira
(Atlas escolar Ceará: espaço geo-histórico e cultural. João Pessoa: Grafset, 2002. p.16.)

27. Da observação da paisagem do território cearense, identifique o tipo de vegetação, relacionando-a ao seu ecossistema natural.
- Vegetação de mata pluvial-nebular, presente em ecossistema de maciços residuais.
 - Vegetação de mata de caatinga, presente em ecossistema de depressão sertaneja.
 - Vegetação de mangue, presente em ecossistema de planícies flúvio-marinhas.
 - Vegetação de mata de cocais, presente em ecossistema de planícies litorâneas.
 - Vegetação de mata ciliar, presente em ecossistema de planícies fluviais.
28. Na hipótese do desmatamento da vegetação ilustrada, como consequência ambiental antiga mais direta, teremos a ocorrência do (a):
- eutrofização dos rios.
 - assoreamento dos rios.
 - contaminação dos rios pelo lançamento de esgotos domésticos e industriais.
 - contaminação dos rios com mercúrio.
 - aumento do leito dos rios.

29. Considere as pirâmides etárias abaixo.

Pirâmides etárias da população mundial (2000)



As pirâmides representam a estrutura etária da população mundial e são resultantes da interação de dois elementos básicos: o crescimento vegetativo e a expectativa média de vida.

A esse respeito, assinale a alternativa correta.

- A pirâmide I é representativa de países ricos e maduros, com elevado crescimento vegetativo anual.
- A pirâmide II é representativa de países pobres e jovens, com baixo crescimento vegetativo anual.
- A expectativa média de vida é maior na pirâmide I; já na pirâmide II este índice é muito baixo.
- As taxas de natalidade e mortalidade são mais elevadas na pirâmide I.
- A expectativa média de vida é maior entre os homens, tanto na pirâmide I como, principalmente, na pirâmide II.

30. No período pós-II Guerra Mundial, especialmente a partir da década de 50, aparecem, em vários países, complexos industriais e empresas multinacionais. As indústrias químicas e eletrônicas crescem. Os avanços da automação, da informática e da biotecnologia são incorporados ao processo produtivo, que passa a depender cada vez mais de mão-de-obra especializada e vem provocando a ampliação do desemprego estrutural.

Esses fatos concretizaram:

- A) a Revolução Industrial no século XVIII
 - B) a Segunda Revolução Industrial
 - C) o fim do Socialismo Real na Europa
 - D) a bipolarização da Guerra Fria
 - E) a Terceira Revolução Industrial
31. Considerando os domínios morfoclimáticos e fitogeográficos do Brasil, assinale a alternativa que indica a seqüência correta dos domínios interceptados pela linha, no sentido S-N.



- A) Domínio dos campos; domínio das araucárias; domínio dos cerrados; domínio equatorial amazônico.
- B) Domínio dos campos; domínio tropical atlântico; domínio das caatingas; domínio amazônico.
- C) Domínio das araucárias; domínio dos mares de morros; domínio dos cerrados; domínio equatorial amazônico.
- D) Domínio das araucárias; domínio do pantanal; domínio dos cerrados; domínio equatorial amazônico.
- E) Domínio dos campos; domínio dos pinhais; domínio dos cerrados; domínio das florestas latifoliadas tropicais.

32. A carcinicultura (fazendas de camarão) tem ampliado expressivamente sua produção nos estuários dos rios cearenses. Sobre a carcinicultura no litoral cearense é correto afirmar que:

- A) tem provocado a destruição de manguezais, com a diminuição da biodiversidade.
- B) é inviável economicamente, devido à baixa produtividade alcançada pela produção de camarão em cativeiro.
- C) tem seguido fielmente as leis de proteção ambiental, aplicando as técnicas de conservação da fauna e da flora dos manguezais.
- D) o Ceará tem pouca expressão na carcinicultura entre os estados nordestinos, transformando-se em importador de camarão de cativeiro.
- E) a produção marítima de camarão e lagosta vem crescendo, de forma expressiva, no Ceará, o que desestimula a prática da carcinicultura.

INGLÊS

Número de Questões: 08 (oito)

Valor de Cada Questão: 2,5 pontos

As questões que se seguem relacionam-se ao texto abaixo:

Psychologists have found that privately made confidential **resolutions** are rarely followed, whereas a public commitment to achieve some goal, such as losing weight or giving up smoking, is likely to be much more effective. This is because the approval of others for doing something desirable is valued. In contrast, disapproval for failure can lead to feelings of shame.

Advertising agencies have designed studies bearing out the truth of this observation. In this research, a group of strangers was bombarded with information about the qualities of a particular product. **They** were then asked to either announce out loud or write down privately whether they intended to buy the product. It was later discovered that those who publicly declared their intention to buy were considerably more likely to do so than those who affirmed their intentions in private.

In another study, an experimenter claiming to represent a local utility company interviewed house owners telling them he was investigating ways in which energy consumption could be reduced. Half the subjects, **randomly** selected, were told that if they agreed to conserve energy their names would be mentioned in an article published in the local newspaper; the remaining half were told their names would not be used. All those interviewed agreed to cooperate and signed a form either giving consent for their names to be used or stating that their names would not be used. Later in the year, the amount of gas consumed in each house was recorded. The owners who had agreed to their names being published had used significantly less gas than those who remained anonymous.

33. Qual o principal assunto do texto?

- A) The commitment to conserve energy.
- B) The effectiveness of public commitment.
- C) The results of studies done on advertising agencies.
- D) The results of studies done on local utility companies.
- E) The observations of the effects of advertising.

34. De acordo com o texto, o que se pode afirmar acerca dos sujeitos anônimos do estudo sobre consumo de energia?

- A) They didn't cooperate.
- B) They didn't sign a form.
- C) They consented to have their names published.
- D) They used less gas than those who agreed to publish their names.
- E) They used more gas than those who agreed to publish their names.

35. Como o experimento determinou a quantidade de gás que os sujeitos utilizaram?

- A) The amount was recorded.
- B) The amount was stated in the contract.
- C) The people published the amount.
- D) The amount was estimated by guess.
- E) The people were given a limited amount.

36. O texto apóia qual das conclusões a seguir?

- A) Disapproval for failure makes people less willing to make public commitments.
- B) Intentions announced out loud are more effective than those published in newspapers.
- C) Well-informed people are more likely to publicly declare their intentions.
- D) Commitments made in private are more likely to fail.
- E) Shame makes people reduce their consumption of energy.

37. A palavra "resolutions", em negrito no primeiro parágrafo, tem o significado de:

- A) explanations
- B) speculations
- C) declarations
- D) persuasions
- E) investigations

38. A palavra "randomly", em negrito no último parágrafo, pode ser substituída, sem mudança de sentido, por:

- A) concretely
- B) publicly
- C) arbitrarily
- D) effectively
- E) peculiarly

39. O pronome "they", em negrito no segundo parágrafo, refere-se a:

- A) intentions
- B) qualities
- C) studies
- D) agencies
- E) strangers

40. Qual das palavras abaixo causaria um erro gramatical se substituísse o termo sublinhado na passagem "The owners who had agreed to their names being published had used significantly less gas than those who remained anonymous."?

- A) Electricity
- B) Dollars
- C) Food
- D) Water
- E) Wood